


Name: _____ Vorname: _____

Adresse: _____

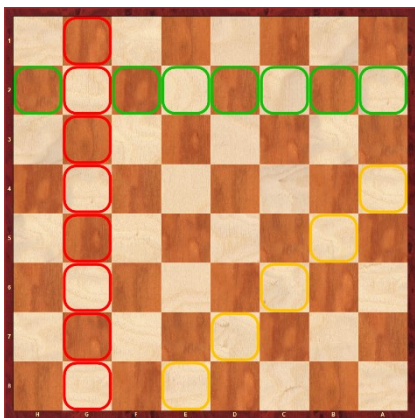


Wie heißen die farbig markierten Felder?

Grün _____

Rot _____


Gelb _____



Welche Farbe hat eine Reihe? _____

Welche Farbe hat die Diagonale? _____


Welche Farbe hat die Linie? _____




Markiere mit einem Stift die Felder, die der König betreten darf




Markiere mit einem Stift die Felder, die der Läufer betreten darf




Markiere mit einem Stift die Felder, die der Turm betreten darf



Markiere mit einem Stift die Felder, die der Dame betreten darf



Markiere mit einem Stift die Felder, die der Springer betreten darf




Markiere mit einem Stift die Felder, wo das Pferdchen hin kann?




Markiere mit einem Stift die Felder, die der Springer betreten darf



Weiss ist am Zug. Wohin kann der Bauer ziehen?



Markiere die Felder. Wohin kann der Bauer ziehen?



Weiss und Schwarz können rochieren. Wie heissen die Felder, wo der König und Turm nach der Rochade stehen werden.

Weiss _____

Schwarz _____



Welche Rochaden sind möglich?

Weiss _____



Welches ist der beste Zug für:

Weiss _____

Schwarz _____